

अभ्यर्थियों के लिए निर्देश

(इस पुस्तिका के प्रथम आवरण पृष्ठ पर तथा उत्तर-पत्र के दोनों पृष्ठों पर केवल नीली-काली बाल-प्वाइंट पेन से ही लिखें)

1. प्रश्न पुस्तिका मिलने के 30 मिनट के अन्दर ही देख लें कि प्रश्नपत्र में सभी पृष्ठ मौजूद हैं और कोई प्रश्न छूटा नहीं है। पुस्तिका दोषयुक्त पाये जाने पर इसकी सूचना तत्काल कक्ष-निरीक्षक को देकर सम्पूर्ण प्रश्नपत्र की दूसरी पुस्तिका प्राप्त कर लें।
2. उत्तर-पत्र अलग [OMR] से दिया गया है। इसे न तो मोड़ें और न ही विकृत करें। दूसरा उत्तर-पत्र नहीं दिया जायेगा।
3. अपना अनुक्रमांक तथा उत्तर-पत्र का क्रमांक प्रथम आवरण-पृष्ठ पर पेन से निर्धारित स्थान पर लिखें।
4. उत्तर-पत्र के प्रथम पृष्ठ पर पेन से अपना अनुक्रमांक निर्धारित स्थान पर लिखें तथा नीचे दिये वृत्तों को गाढ़ा कर पेन से भर दें। जहाँ-जहाँ आवश्यक हो वहाँ प्रश्न-पुस्तिका का क्रमांक, सेण्टर कोड तथा सेट का नम्बर उचित स्थानों पर लिखें।
5. ओ० एम० आर० उत्तर-पत्र पर अनुक्रमांक संख्या, प्रश्नपुस्तिका संख्या व सेट संख्या (यदि कोई हो), सेण्टर कोड तथा प्रश्नपुस्तिका पर अनुक्रमांक और ओ० एम० आर० उत्तर-पत्र संख्या की प्रविष्टियों में उपरिलेखन मिटाकर या काटकर पुनः लेखन की अनुमति नहीं है।
6. उपर्युक्त प्रविष्टियों में कोई भी परिवर्तन कक्ष निरीक्षक द्वारा प्रमाणित होना चाहिये अन्यथा यह एक अनुचित साधन का प्रयोग माना जायेगा।
7. इस प्रश्न पुस्तिका में कुल 100 बहुविकल्पीय प्रश्न हैं। प्रश्न-पुस्तिका में प्रत्येक प्रश्न के चार वैकल्पिक उत्तर दिये गये हैं। प्रत्येक प्रश्न के वैकल्पिक उत्तर के लिए आपको उत्तर-पत्र की सम्बन्धित पंक्ति के सामने दिये गये वृत्त को उत्तर-पत्र के प्रथम पृष्ठ पर दिये गये निर्देशों के अनुसार पेन से भरना या गाढ़ा करना है।
8. प्रत्येक प्रश्न के उत्तर के लिए केवल एक ही वृत्त को गाढ़ा भर दें। एक से अधिक वृत्तों को गाढ़ा करने पर अथवा एक वृत्त को अपूर्ण भरने पर वह उत्तर गलत माना जायेगा।
9. ध्यान दें कि एक बार स्याही द्वारा अंकित उत्तर बदला नहीं जा सकता है। यदि आप किसी प्रश्न का उत्तर नहीं देना चाहते हैं, तो संबंधित पंक्ति के सामने दिये गये सभी वृत्तों को खाली छोड़ दें। ऐसे प्रश्नों पर शून्य अंक दिये जायेंगे।
10. रफ कार्य के लिए प्रश्न-पुस्तिका के मुखपृष्ठ के अंदर वाला पृष्ठ तथा उत्तर-पुस्तिका के अंतिम पृष्ठ का प्रयोग करें।
11. परीक्षा के उपरान्त केवल ओ एम आर उत्तर-पत्र परीक्षा भवन में जमा कर दें।
12. परीक्षा समाप्त होने से पहले परीक्षा भवन से बाहर जाने की अनुमति नहीं होगी।
13. यदि कोई अभ्यर्थी परीक्षा में अनुचित साधनों का प्रयोग करता है, तो वह विश्वविद्यालय द्वारा निर्धारित दंड का भागी होगा।

Set No. : 1

RET/23

Question Booklet No.

683 Samveda

(To be filled up by the candidate by blue/black ball point pen)

Roll No.

Roll No. (Write the digits in words)

Serial No. of OMR Answer Sheet

Centre Code No.

Day and Date (Signature of Invigilator)

INSTRUCTIONS TO CANDIDATES

(Use only blue/black ball-point pen in the space above and on both sides of the Answer Sheet)

1. Within 30 minutes of the issue of the Question Booklet, Please ensure that you have got the correct booklet and it contains all the pages in correct sequence and no page/question is missing. In case of faulty Question Booklet, bring it to the notice of the Superintendent/Invigilators immediately to obtain a fresh Question Booklet.
2. A separate Answer Sheet [OMR] is given. It should not be folded or mutilated. A second Answer Sheet shall not be provided.
3. Write your Roll Number and Serial Number of the Answer Sheet by pen in the space provided above.
4. On the front page of the Answer Sheet, write your Roll Number in the space provided at the top, using blue/black ball point pen and by darkening the circles at the bottom. Also, wherever applicable, write the Question Booklet Number, Centre Code and the Set Number at appropriate places.
5. No overwriting is allowed in the entries of Roll No., Question Booklet No., Centre Code and Set No. (if any) on OMR Answer sheet and Roll No. and OMR Answer sheet no. on the Question Booklet.
6. Any change in the aforesaid entries is to be verified by the invigilator, otherwise it will be considered as unfair means.
7. This Question Booklet contains 100 multiple choice questions (MCQs). For each MCQ, you are to record the correct option on the Answer Sheet by darkening the appropriate circle in the corresponding row of the Answer Sheet, by pen as mentioned in the guidelines given on the first page of the Answer Sheet.
8. For each question, darken only one circle on the Answer Sheet. If you darken more than one circle or darken a circle partially, the answer will be treated as incorrect.
9. Note that the answer once filled in ink cannot be changed. If you do not wish to attempt a question, leave all the blank in the corresponding row (such question will be awarded zero marks).
10. For rough work, use the inner back pages of the title cover and the blank page at the end of this Booklet.
11. Submit both OMR Answer Sheet and Question Booklet at the end of the Test to the Invigilator before leaving the Examination Hall.
12. You are not permitted to leave the Examination Hall until the end of the Test.
13. If a candidate attempts to use any form of unfair means, he/she shall be liable to such punishment as the University may determine and impose on him/her.

Total No. of Printed Pages : 32

RET/23

683/Samveda (i)

RET/23

683/Samveda (i)

ROUGH WORK
रफ़ कार्य

ROUGH WORK
रफ़ कार्य

95. भावना भवति -

- | | |
|--------------|---------------|
| (1) षोढा | (2) चतुर्विधा |
| (3) त्रिविधा | (4) द्विविधा |

96. वरुणप्रधासपर्व भवति -

- | | |
|-----------------|-------------------|
| (1) सोमयागे | (2) चातुर्मास्ये |
| (3) अग्निहोत्रे | (4) दर्शपूर्णमासे |

97. वेदी - निर्माणस्य विधयः सन्ति ।

- | | |
|-----------------|-----------------|
| (1) श्रौतसूत्रे | (2) गृह्यसूत्रे |
| (3) व्याकरणे | (4) शुल्बसूत्रे |

98. व्यासः ऋग्वेदं कं पाठयामास?

- | | |
|------------|-----------------|
| (1) पैलम् | (2) जैमिनीम् |
| (3) नारदम् | (4) वैशम्पायनम् |

99. सामवेदस्य कति ऋचः ऋग्वेदात्संगृहीताः ?

- | | |
|----------|----------|
| (1) 1504 | (2) 1581 |
| (3) 1600 | (4) 1605 |

100. बृहद्देवतायाः रचयिता कः ?

- | | |
|---------------|----------------|
| (1) आश्वलायनः | (2) सायणः |
| (3) शौनकः | (4) वाष्कलायनः |

683/Samveda (i)

Research Entrance Test-2023

No. of Questions : 100

प्रश्नों की संख्या : 100

Time : 3 Hours

Full Marks : 400

समय : 3 घण्टे

पूर्णाङ्क : 400

Note: (1) This Question Booklet contains **100** objective questions (MCQs) of which **50** Objective questions are based on components of Research Methodology and **50** Objective questions are based on concerned subject.

इस प्रश्न-पुस्तिका में कुल **100** वस्तुनिष्ठ प्रश्न (एम०सी०क्यू०) हैं। जिसमें **50** वस्तुनिष्ठ प्रश्न शोध प्रविधि के संघटकों पर आधारित हैं और **50** वस्तुनिष्ठ प्रश्न संबंधित विषय एवं क्षेत्र पर आधारित हैं।

(2) Attempt as many questions as you can. Each question carries **4 (Four)** marks. **Zero** mark will be awarded for each unattempted question. There will be no **negative marking** for wrong answer.

उतने प्रश्नों को हल करने का प्रयत्न करें जितना आप कर सकें। प्रत्येक प्रश्न **4 (चार)** अंकों का है। प्रत्येक अनुत्तरित प्रश्न का प्राप्तांक **शून्य** होगा। गलत उत्तर के लिए कोई **ऋणात्मक अंक** नहीं दिया जायेगा।

(3) If more than one alternative answers of MCQs seem to approximate the correct answer, choose the closest one. यदि वस्तुनिष्ठ प्रश्नों के एक से अधिक वैकल्पिक उत्तर सही उत्तर के निकट प्रतीत हों, तो निकटतम सही उत्तर दें।

01. The marks of 100 students of a class revealed that about 80 students scored below 20 marks, 10 students scored between 20 to 80 and remaining scored between 80 and 100 marks. Which of the following statements is **correct** for such data ?

एक कक्षा के 100 छात्रों के अंकों से पता चला कि लगभग 80 छात्रों ने 20 से कम अंक प्राप्त किए, 10 छात्रों ने 20 से 80 के बीच अंक प्राप्त किए और शेष ने 80 से 100 अंक के बीच अंक प्राप्त किए। ऐसे आँकड़ों के लिए निम्नलिखित में से कौन-सा कथन सही है ?

- (1) Mode of the data will be 30
आँकड़ों का बहुलक 30 होगा
- (2) Skewness of the data will be negative
आँकड़ों का तिरछापन ऋणात्मक होगा
- (3) Kurtosis of the data will be equal to 3
आँकड़ों का कुकुदता 3 के बराबर होगा
- (4) Skewness of the data will be positive
आँकड़ों का तिरछापन धनात्मक होगा

02. The vertical axis in a graph is known as :

ग्राफ में ऊर्ध्वाधर अक्ष को जाना जाता है :

- | | |
|-------------------------------------|-------------------------------------|
| (1) Reference Line रेफरेन्स रेखा | (2) Abscissa एब्सिसा |
| (3) Ordinate ऑर्डिनेट | (4) Double ordinate डबल ऑर्डिनेट |

03. Find out the median of the given data set :

11, 12, 14, 16, 16, 10, 18, 19, 9, 20

दिए गए आँकड़ा समुच्चय की माध्यिका ज्ञात करें :

11, 12, 14, 16, 16, 10, 18, 19, 9, 20

- | | |
|--------|--------|
| (1) 15 | (2) 16 |
| (3) 13 | (4) 17 |

89. 'साम' शब्दः कस्य वाचकोस्ति ?

- | | |
|-----------------|-------------------|
| (1) गानमात्रस्य | (2) गानविशिष्टऋचः |
| (3) ऋचः | (4) कस्यापि न |

90. "सप्तसोमसंस्थाः" इत्यत्र संस्था शब्दः कस्य वाचकः ?

- | | |
|-----------------|-----------------|
| (1) समाप्तेः | (2) प्रारम्भस्य |
| (3) परिश्रमदिशः | (4) गानस्य |

91. लाट्यायनश्रौतसूत्रे प्रपाठकाः कति ?

- | | |
|-------|--------|
| (1) 7 | (2) 10 |
| (3) 6 | (4) 8 |

92. राणायणीयशाखासम्बद्धम् वर्तते -

- | | |
|----------------------------|--------------------------|
| (1) द्राह्यायणश्रौतसूत्रम् | (2) लाट्यायनश्रौतसूत्रम् |
| (3) बौधायनश्रौतसूत्रम् | (4) किमपि न |

93. जैमिनीयश्रौतसूत्रं विभक्तमस्ति -

- | | |
|--------------------|--------------------|
| (1) दशखण्डेषु | (2) अष्टसु खण्डेषु |
| (3) त्रिषु खण्डेषु | (4) पञ्चसु खण्डेषु |

94. द्राह्यायणगृह्यसूत्रस्य साम्यं भवति -

- | | |
|-------------------------------|------------------------|
| (1) द्राह्यायणश्रौतसूत्रेण सह | (2) लाट्यायनसूत्रेण सह |
| (3) खादिरगृह्यसूत्रेण सह | (4) सर्वैः सह |

82. कुशमुष्टिवाचकः वेदशब्दः अस्ति ।

- | | |
|------------|-------------|
| (1) यौगिकः | (2) योगरूढः |
| (3) रूढः | (4) अनर्थकः |

83. सामतन्त्रमस्ति ।

- | | |
|-----------------------|---------------------------|
| (1) त्रिकाण्डात्मकम् | (2) त्रयोदशप्रपाठकात्मकम् |
| (3) पञ्चाध्यायात्मकम् | (4) दशपर्वात्मकम् |

84. कति ग्रामाः भवन्ति ?

- | | |
|--------------------|---------------------|
| (1) त्रयोः ग्रामाः | (2) एकविंशतिग्रामाः |
| (3) दशग्रामाः | (4) एकादशग्रामाः |

85. प्रथम कारिकानुसारं लोमशीशिक्षायाः रचनाकारोस्ति -

- | | |
|-----------------|-----------------|
| (1) माधवाचार्यः | (2) गर्गाचार्यः |
| (3) नारदः | (4) कोऽपि न |

86. “संयोगशृंखला” इत्यपरं नामास्ति -

- | | |
|---------------------|---------------------------|
| (1) नारदीयशिक्षायाः | (2) याज्ञवल्क्य शिक्षायाः |
| (3) गौतमीशिक्षायाः | (4) लोमशीशिक्षायाः |

87. अष्टसु व्याकरणकर्तृषु नास्ति -

- | | |
|--------------|--------------|
| (1) शाकटायनः | (2) इन्द्रः |
| (3) चन्द्रः | (4) गार्ग्यः |

88. ज्यौतिषशास्त्रं वर्तते -

- | | |
|------------------------|-----------------------|
| (1) स्कन्धत्रयात्मकम् | (2) सूर्यादिशास्त्रम् |
| (3) मानवभेदत्रयात्मकम् | (4) होरात्रयात्मकम् |

04. The digital repository of theses and dissertations submitted to universities of India is known as :

भारत के विश्वविद्यालयों में प्रस्तुत शोध प्रबन्धों एवं शोध निबंधों के डिजिटल भंडार को जाना जाता है :

- | | |
|----------------------------------|-----------------------------|
| (1) Shodhganga शोधगंगा | (2) Shodhsindhu शोधसिंधु |
| (3) Shodhgangotri शोधगंगोत्री | (4) Vidwan विद्वान |

05. Which among the following pair is **not** correct ?

निम्नलिखित में से कौन-सा युग्म सही नहीं है ?

- | |
|---|
| (1) Regression – Galton प्रतिगमन – गैल्टन |
| (2) Correlation coefficient – Pearson सहसंबंध गुणांक – पियर्सन |
| (3) ANOVA – Fisher एनोवा – फिशर |
| (4) PCA – Gauss पीसीए – गॉस |

06. The checklist used to improve transparency in systematic reviews is :

व्यवस्थित समीक्षाओं में पारदर्शिता को बेहतर बनाने के लिए उपयोग की जाने वाली चेकलिस्ट है :

- | | |
|---------------------------|---------------------------|
| (1) META एमइटीए | (2) COHEART सीओएचएआरटी |
| (3) PRISMA पीआरआइएसएमए | (4) MAXIME एमएक्सआइएमइ |

07. The measurement scale with an absolute zero is :

निरपेक्ष शून्य वाली मापनी है :

- | | |
|-----------------------------------|------------------------------------|
| (1) Ratio Scale अनुपात मापनी | (2) Interval Scale अंतराल मापनी |
| (3) Ordinal Scale क्रमिक मापनी | (4) Nominal Scale नामित मापनी |

08. Among the following sampling methods, which one falls under the probability method ?

निम्नलिखित प्रतिचयन विधियों में से कौन-सा संभाव्यता विधि के अंतर्गत आता है ?

- | | |
|---|---|
| (1) Judgement sampling निर्णय प्रतिचयन | (2) Quota sampling कोटा प्रतिचयन |
| (3) Cluster sampling गुच्छ प्रतिचयन | (4) Convenience sampling सुविधा प्रतिचयन |

09. The number of possible samples of size 2 out of a population with size 5 using simple random sampling with replacement is :

प्रतिस्थापन के साथ सरल यादृच्छिक प्रतिचयन का उपयोग करके आकार 5 वाली जनसंख्या में से आकार 2 के समस्त संभावित प्रतिदर्शों की संख्या है :

- | | |
|--------|--------|
| (1) 25 | (2) 20 |
| (3) 10 | (4) 12 |

10. The sampling method generally used for gathering information on rare events is :

दुर्लभ घटनाओं पर जानकारी एकत्र करने के लिए सामान्यतया प्रतिचयन विधि का उपयोग किया जाता है :

- | |
|---|
| (1) Simple random sampling सरल यादृच्छिक प्रतिचयन |
| (2) Stratified random sampling स्तरीकृत यादृच्छिक प्रतिचयन |
| (3) Snowball sampling व्यापक (स्नोबॉल) प्रतिचयन |
| (4) Systematic sampling क्रमिक प्रतिचयन |

76. वैश्वानरः इत्यस्य निर्वचनं नास्ति ।

- | |
|---|
| (1) विश्वान् नरान् नयति । |
| (2) विश्वे एनं नराः नयन्ति । |
| (3) विश्वानर एव स्यात् , प्रत्युतः सर्वविभूतानि । |
| (4) विश्वान् नरान् दाहयति । |

77. एकाक्षरा भवति ।

- | | |
|-------------------|----------------------|
| (1) दैवी गायत्री | (2) ब्राह्मी गायत्री |
| (3) आसुरी गायत्री | (4) पंक्तिः |

78. रेफषकारयोर्योगे का नाम स्वरभक्तिर्भवति ?

- | | |
|--------------|------------|
| (1) हरिणी | (2) हंसपदा |
| (3) कुर्विणी | (4) हरिता |

79. पुष्पसूत्रे प्रपाठकाः सन्ति ।

- | | |
|------------|------------|
| (1) दश | (2) पञ्चदश |
| (3) द्वादश | (4) सप्त |

80. शाकटायनाचार्यप्रणीतम् -

- | | |
|-------------------|------------------|
| (1) सामतन्त्रम् | (2) ऋक्तन्त्रम् |
| (3) अक्षरतन्त्रम् | (4) पुष्पसूत्रम् |

81. पदार्थबोधकवाक्यानां यः क्रमः सः ।

- | | |
|----------------|--------------------|
| (1) अर्थक्रमः | (2) पाठक्रमः |
| (3) मुख्यक्रमः | (4) प्रवृत्तिक्रमः |

70. 'तत्त्वमसि' इति महावाक्यं केन वेदेन सम्बद्धा ?

- | | |
|----------------|----------------|
| (1) ऋग्वेदेन | (2) सामवेदेन |
| (3) यजुर्वेदेन | (4) अथर्ववेदेन |

71. शुक्रियपर्वः कस्मिन् गाने गीयते ?

- | | |
|---------------|---------------|
| (1) ऊहगाने | (2) ऊह्यगाने |
| (3) ग्रामगाने | (4) अरण्यगाने |

72. 'यस्य पर्णमयी जुहूः' अत्र मयट् विधायकं सूत्रमस्ति -

- | | |
|-------------------|-------------------|
| (1) नित्यं छन्दसि | (2) द्वयचश्छन्दसि |
| (3) मयट् च | (4) पालाशीजुहूः |

73. निरुक्तनिचयमित्याख्यस्य टीकायाः कर्ता अस्ति -

- | | |
|--------------------|-------------|
| (1) स्कन्दमहेश्वरः | (2) वररुचिः |
| (3) दुर्गाचार्यः | (4) हलायुधः |

74. अन्तरिक्षस्थानीयः कः ?

- | | |
|------------|--------------|
| (1) वायुः | (2) सूर्यः |
| (3) अग्निः | (4) पर्जन्यः |

75. प्रकृतिगाने परिगणितः -

- | | |
|---------------|---------------|
| (1) वेयगानम् | (2) ऊहगानम् |
| (3) ऊह्यगानम् | (4) सत्रगानम् |

11. Match the given study designs in **Column-I** with **Column-II** and choose **correct** option :

स्तम्भ-I में दिये गये अध्ययन अभिकल्पों को स्तम्भ -II से मिलायें और सही विकल्प चुने :

Column-I

Column-II

स्तंभ-I

स्तंभ-II

A. Cross-sectional

(i) Data comes in future.

क्रॉस सेक्शनल

आँकड़े भविष्य में मिलते हैं।

B. Case control

(ii) Data comes at present.

केस कंट्रोल

आँकड़े वर्तमान में मिलते हैं।

C. Cohort

(iii) Data comes from past.

कोहोर्ट

आँकड़े पूर्व से मिलते हैं।

Code :

कूट :

(1) A-(ii), B-(iii), C-(i)

(2) A-(ii), B-(i), C-(iii)

(3) A-(iii), B-(ii), C-(i)

(4) A-(i), B-(ii), C-(iii)

12. What is full form of USB as used in computer related activities ?

कम्प्यूटर से संबंधित गतिविधियों में उपयोग होने वाले USB का पूर्ण रूप क्या है ?

(1) United Serial Bus

(2) Ultra Security Bus

यूनाइटेड सीरियल बस

अल्ट्रा सिक्योरिटी बस

(3) Universal Security Bus

(4) Universal Serial Bus

यूनिवर्सल सिक्योरिटी बस

यूनिवर्सल सीरियल बस

13. Which among the following can be used as post hoc test for means ?

निम्नलिखित में से कौन माध्यों के लिए पोस्ट-हॉक परीक्षण का उदाहरण है ?

- (1) Run test
रन परीक्षण
- (2) One Sample t-test
एक प्रतिदर्श t-परीक्षण
- (3) Chi Square test for goodness of fit
गुडनेस ऑफ फिट के लिए काई वर्ग परीक्षण
- (4) Independent t-test
स्वतंत्र t-परीक्षण

14. Which among the following is a referencing software ?

निम्नलिखित में से कौन-सा एक रेफरेंसिंग सॉफ्टवेयर है ?

- (1) Canva
केन्वा
- (2) PubMed
पबमेड
- (3) EndNote
इन्डनोट
- (4) Sci-Hub
साइ-हब

15. Which among the following is **not** an example of plagiarism detection software ?

निम्नलिखित में से कौन साहित्यिक चोरी का पता लगाने वाले सॉफ्टवेयर का उदाहरण **नहीं** है ?

- (1) Mendeley
मेंडले
- (2) Drillbit
ड्रिलबिट
- (3) Urkund
उरकुंड
- (4) Turnitin
टर्निटिन

62. सामवेदीयवंशब्राह्मणे कति खण्डाः सन्ति ?

- (1) 03
(2) 08
(3) 05
(4) 10

63. तवलकारारण्यके कति अध्यायाः सन्ति ?

- (1) 02
(2) 06
(3) 04
(4) 08

64. आर्षेयब्राह्मणे कति प्रपाठकाः सन्ति ?

- (1) 09
(2) 05
(3) 07
(4) 03

65. श्रौतसूत्राणां प्रतिपाद्यविषयः-

- (1) संस्कारविधिः
(2) वैदिकयागः
(3) गृहयागः
(4) वेदीनिर्माणविधिः

66. 'विश्वान् नरान् नयति' इति कस्य निर्वचनम् अस्ति ?

- (1) विश्वजितस्य
(2) वैश्वानरस्य
(3) विश्वस्य
(4) विश्वामित्रस्य

67. छन्दोवेदाङ्गस्य प्रतिनिधिग्रन्थः ' छन्दःसूत्रम् ' केन प्रणीतम् ?

- (1) पिङ्गलेन
(2) वराहमिहिरेण
(3) शाकल्येन
(4) लगधेन

68. सम्प्रति सामवेदस्य कति शाखाः समुपलभ्यन्ते ?

- (1) 02
(2) 03
(3) 25
(4) 13

69. सामवैदिकपूर्वार्चिकस्य पञ्चमः अध्यायः अस्ति -

- (1) ऐन्द्रपर्वम्
(2) आरण्यपर्वम्
(3) पवमानपर्वम्
(4) ग्रामगानम्

55. बृहतीछन्दसि कियन्तो वर्णाः भवन्ति ?

- | | |
|--------|--------|
| (1) 44 | (2) 40 |
| (3) 36 | (4) 38 |

56. अङ्गुलिषु स्वरसञ्चालनं क्रियते -

- | | |
|---------------|---------------|
| (1) ऋग्वेदे | (2) यजुर्वेदे |
| (3) अथर्ववेदे | (4) सामवेदे |

57. सामवेदस्य पूर्वार्चिके कियन्ति काण्डानि सन्ति ?

- | | |
|----------|----------|
| (1) पञ्च | (2) सप्त |
| (3) षड् | (4) अष्ट |

58. यास्कमते परोक्षादिभेदात् मन्त्रः कतिविधः ?

- | | |
|-------|-------|
| (1) 2 | (2) 4 |
| (3) 3 | (4) 5 |

59. सर्वाभिर्नामविभक्तिभिर्युज्यन्ते प्रथमपुरुषैश्चाख्यातस्य-

- | | |
|-----------------------------|-----------------------------|
| (1) प्रत्यक्षकृताः मन्त्राः | (2) आध्यात्मिक्याः मन्त्राः |
| (3) परोक्षकृताः मन्त्राः | (4) निविद् मन्त्राः |

60. 'अश्व' पदस्य निर्वचनमस्ति -

- | | |
|--------------------|---------------------|
| (1) असुवान् भवति | (2) अशुते अध्वानम् |
| (3) अहिमश्नोति इति | (4) अंशुवान् भवतीति |

61. यास्कमते वैदिकपदं कतिविधं भवति ?

- | | |
|---------------|----------------|
| (1) द्विविधम् | (2) चतुर्विधम् |
| (3) षड्विधम् | (4) अष्टविधम् |

16. The principle of experimental design which helps in minimizing the bias is :

प्रायोगिक अभिकल्प सिद्धांत जो अभिनति को न्यूनतम करने में मदद करता है :

- | |
|---|
| (1) Replication प्रतिकृति |
| (2) Randomization यादृच्छिकीकरण |
| (3) Local Control स्थानीय नियंत्रण |
| (4) Replication and Randomization प्रतिकृति और यादृच्छिकीकरण |

17. The minimum number of levels in an experimental design should be :

एक प्रायोगिक अभिकल्प में स्तरों की न्यूनतम संख्या होनी चाहिए :

- | | |
|------------------|-------------------|
| (1) One एक | (2) Two दो |
| (3) Three तीन | (4) Zero शून्य |

18. Which of the following experimental design is preferred when one of the factors needs more experiment material than the second factor ?

जब किसी एक कारक को दूसरे कारक की तुलना में अधिक प्रयोग सामग्री की आवश्यकता होती है, तो निम्नलिखित में से किस प्रयोगात्मक अभिकल्प को प्राथमिकता दी जाती है ?

- | | |
|---|-------------------------------------|
| (1) Latin Square Design लैटिन वर्ग अभिकल्प | (2) Lattice Design लैटिस अभिकल्प |
| (3) Split plot स्लिट प्लॉट | (4) Strip plot स्ट्रिप प्लॉट |

19. The type of ANOVA employed in analysis of Completely Randomized Design is :

सम्पूर्ण यादृच्छिक अभिकल्प के विश्लेषण में प्रयुक्त एनोवा का प्रकार है :

- | | |
|---|---|
| (1) One way एकतरफा | (2) Two way without replication प्रतिकृति के बिना दोतरफा |
| (3) Two way with replication प्रतिकृति के साथ दोतरफा | (4) Three way तीनतरफा |

20. Which of the following is susceptible with research ethics ?

निम्नलिखित में से कौन अनुसंधान नैतिकता के प्रति अति-संवेदनशील है ?

- | |
|--|
| (1) Reporting of research findings शोध निष्कर्षों की रिपोर्टिंग |
| (2) Inaccurate application of analysis techniques विश्लेषण तकनीकों का गलत अनुप्रयोग |
| (3) Choice of sampling technique प्रतिचयन तकनीक का चयन |
| (4) Faulty research design दोषपूर्ण शोध डिज़ाइन |

21. In finalizing the thesis writing format which of the following would form part of supplementary pages ?

थीसिस लेखन प्रारूप को अंतिम रूप देने में निम्नलिखित में से कौन-सा पूरक पृष्ठों का हिस्सा होगा ?

- | | |
|------------------------------------|---|
| (1) Appendices परिशिष्ट | (2) List of tables and figures तालिकाओं और आँकड़ों की सूची |
| (3) Table of contents विषय-सूची | (4) Conclusion of the study अध्ययन का निष्कर्ष |

49. Difference between the average vehicles manufactured by the companies during the year 2015 to 2020 is :

वर्ष 2015 से 2020 के दौरान कम्पनियों द्वारा निर्मित वाहनों के औसत का अंतर है :

- | | |
|-----------|-----------|
| (1) 205.5 | (2) 105.0 |
| (3) 103.5 | (4) 107.5 |

50. If G_1 and G_2 denote growth rates of Companies A and B from 2015 to 2020 respectively, then which of the following is **true** ?

यदि G_1 और G_2 क्रमशः 2015 से 2020 तक कम्पनियों A और B की वृद्धि दर को दर्शाते हैं, तो निम्नलिखित में से कौन-सा सत्य है ?

- | | |
|--------------------|--------------------|
| (1) $G_2 > G_1$ | (2) $G_2 < G_1$ |
| (3) $G_2 \geq G_1$ | (4) $G_2 \leq G_1$ |

51. सामवेदस्य प्रथमः भाष्यकारः आसीत् ।

- | | |
|------------|----------------|
| (1) माधवः | (2) महीधरः |
| (3) उव्वटः | (4) गुणविष्णुः |

52. आचार्यगुणविष्णोः कस्मिन् सामवेदीयब्राह्मणे भाष्यम् अस्ति ?

- | | |
|----------------------|-----------------------|
| (1) ताण्ड्यब्राह्मणे | (2) मन्त्रब्राह्मणे |
| (3) आर्षेयब्राह्मणे | (4) सामविधानब्राह्मणे |

53. “या ऋक् तत् साम” इति कुत्र वर्णितः ?

- | | |
|----------------------|----------------------|
| (1) प्रश्नोपनिषदि | (2) मुण्डकोपनिषदि |
| (3) माण्डूक्योपनिषदि | (4) छान्दोग्योपनिषदि |

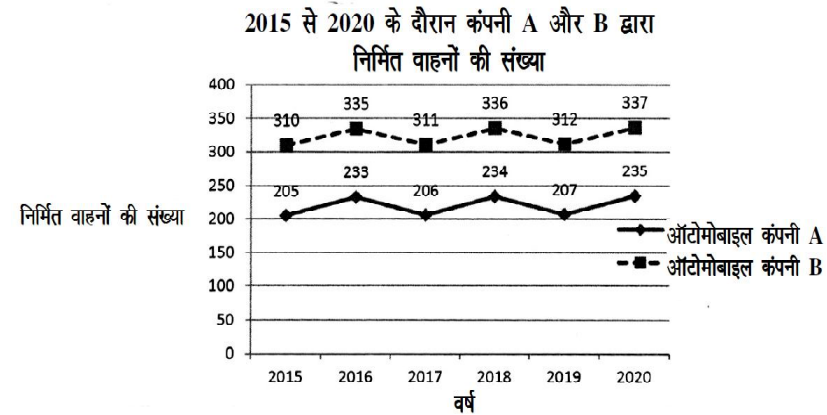
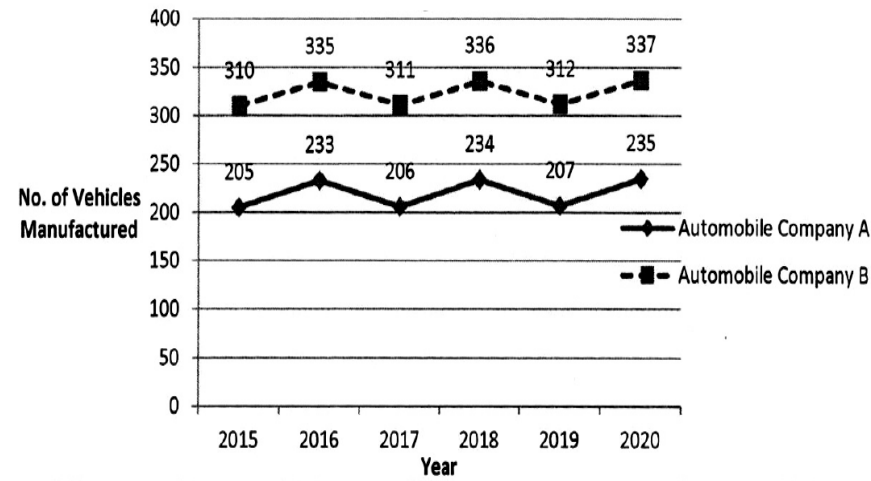
54. ‘लोमशीयशिक्षा’ सम्बद्धा वर्तते ।

- | | |
|---------------------|----------------|
| (1) कृष्णयजुर्वेदेन | (2) ऋग्वेदेन |
| (3) सामवेदेन | (4) अथर्ववेदेन |

Instructions (Q. No. 49 & 50) : Review the given figure which shows the manufactured vehicles by two companies A and B during the year 2015 to 2020. Choose the **correct** answer for each question given below :

निर्देश (प्र० सं० 49 तथा 50) : कृपया नीचे दिए गये ग्राफ जोकि वर्ष 2015 से 2020 के दौरान दो कंपनियों A और B द्वारा निर्मित वाहनों को दर्शाता है, की समीक्षा कीजिए। नीचे दिये गये प्रत्येक प्रश्न के लिए सही उत्तर चुनिए।

Number of Vehicles Manufactured by Companies A and B during 2015 to 2020



22. The mean of the standard normal distribution is :

मानक प्रसामान्य बंटन का माध्य है :

- | | |
|----------------------|-------------------|
| (1) Zero शून्य | (2) One एक |
| (3) Infinity अनंत | (4) Fifty पचास |

23. In Harvard style of referencing for a book, which among the following comes in the last ?

किसी पुस्तक को हार्वर्ड शैली में संदर्भित करने के लिए निम्नलिखित में से कौन-सा अन्त में आता है ?

- | | |
|--|--|
| (1) Book title पुस्तक का शीर्षक | (2) Year of Publication प्रकाशन का वर्ष |
| (3) Place of Publication प्रकाशन का स्थान | (4) Publisher प्रकाशक |

24. Which of the following educational program is **not** govern by IGNOU ?
निम्न में से कौन-सा शैक्षिक कार्यक्रम IGNOU द्वारा संचालित **नहीं** है ?

- | | |
|---------------------------------|---------------------------|
| (1) Gyan Darshan ज्ञान दर्शन | (2) Gyanvani ज्ञानवाणी |
| (3) Swayam स्वयम् | (4) e-Kosh ई-कोष |

25. The word research is derived from the French word :

रिसर्च शब्द, फ्रेंच शब्द से बना है :

- | | |
|---------------------------|------------------------|
| (1) Recherche रीचेर्चे | (2) Reserch रिसर्च |
| (3) Ricirch रिकिर्च | (4) Resorce रिसोर्स |

26. Which among the following is an example of open-source data analysis software ?

निम्नलिखित में से कौन-सा ओपन-सोर्स आँकड़ा विश्लेषण सॉफ्टवेयर का एक उदाहरण है ?

- | | |
|--|----------------------------|
| (1) SPSS एस० पी० एस० एस० | (2) JASP जे० ए० एस० पी० |
| (3) Graphpad Prism ग्राफपैड प्रिज्म | (4) SAS एस० ए० एस० |

27. What are the conditions in which Type-II error occurs ?

वे कौन-सी स्थितियाँ हैं जिनमें टाइप-II त्रुटि उत्पन्न होती है ?

- (1) The null hypothesis gets accepted even if it is false.
शून्य परिकल्पना असत्य होने पर भी स्वीकृत हो जाती है।
- (2) The null hypothesis gets rejected even if it is true.
शून्य परिकल्पना सत्य होने पर भी अस्वीकृत हो जाती है।
- (3) Both the null hypothesis as well as alternative hypothesis are rejected.
शून्य परिकल्पना और वैकल्पिक परिकल्पना दोनों अस्वीकार की जाती हैं।
- (4) The null hypothesis gets accepted even if it is true.
शून्य परिकल्पना सत्य होने पर भी स्वीकृत हो जाती है।

28. Following are some steps used in research. Choose the appropriate sequence of steps in completion of research work :

शोध में उपयोग किए जाने वाले कुछ चरण निम्नलिखित हैं। शोध कार्य को पूरा करने के लिए चरणों का उचित क्रम चुनें :

- (i) Literature survey
साहित्य सर्वेक्षण
 - (ii) Developing hypothesis
परिकल्पना का विकास करना
 - (iii) Preparation of research design
अनुसंधान अभिकल्प तैयार करना
 - (iv) Sampling plan
प्रतिदर्श योजना
 - (v) Hypothesis testing
परिकल्पना परीक्षण
- (1) (i), (iii), (iv), (ii), (v)
 - (2) (i), (iv), (iii), (ii), (v)
 - (3) (i), (ii), (iii), (iv), (v)
 - (4) (i), (iv), (iii), (ii), (v)

46. The average monthly visitors (rounded) for site xyz in 2023 is :

साइट xyz के लिए साल 2023 में मासिक औसत दर्शक (पूर्णांकित) कितने थे ?

- (1) 414165
- (2) 414167
- (3) 414168
- (4) 414160

47. What was the percentage (rounded to zero) decrease in visitors from April to May ?

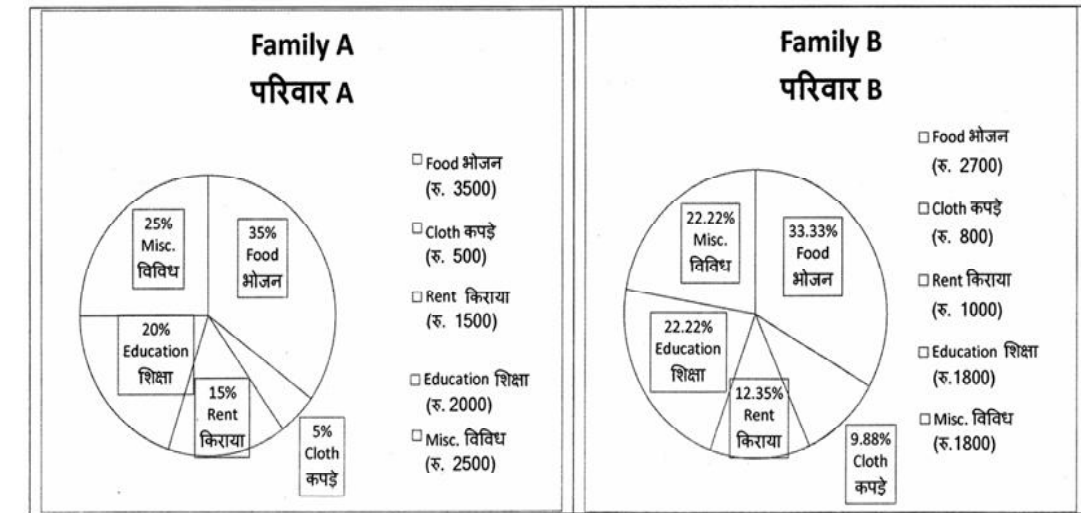
अप्रैल से मई तक, दर्शकों में प्रतिशत (शून्य पर पूर्णांकित) कमी कितनी है ?

- (1) 8%
- (2) 5%
- (3) 10%
- (4) 15%

48. The pie diagram given below, shows monthly expenditure of the two families A and B on various items along with raw data of expenditure as mentioned in the legend. What will be the ratios of radii of circle A to B in constructing the pie diagram ?

नीचे दिया गया पाई आरेख, व्यय के मूल आँकड़े के साथ विभिन्न मदों पर दो परिवारों A और B के मासिक व्यय को दर्शाता है। पाई आरेख के निर्माण में वृत्त A से B की त्रिज्याओं का अनुपात क्या होगा ?

- (1) 9 : 10
- (2) 100 : 81
- (3) 10 : 9
- (4) 1 : 1



Instructions (Q. No. 46 & 47) : Review the monthly website traffic data for site xyz in the year 2023 provided in the data below. Choose the **correct** answer for each question given below :

निर्देश (प्र० सं० 46 तथा 47) : कृपया नीचे दिए गए वर्ष 2023 में साइट xyz के मासिक वेबसाइट यातायात आँकड़ों की समीक्षा करें। नीचे दिए गए प्रत्येक प्रश्न के लिए **सही** उत्तर चुनें :

Monthly Website Traffic data for the Site xyz (Year-2023)
xyz साइट के लिए मासिक वेबसाइट यातायात आँकड़ा (वर्ष-2023)

| Month महीना | Visitors दर्शक |
|----------------------|-------------------|
| January जनवरी | 3,50,000 |
| February फरवरी | 3,80,000 |
| March मार्च | 3,00,000 |
| April अप्रैल | 4,20,000 |
| May मई | 4,00,000 |
| June जून | 4,50,000 |
| July जुलाई | 4,30,000 |
| August अगस्त | 4,70,000 |
| September सितम्बर | 3,80,000 |
| October अक्टूबर | 4,10,000 |
| November नवम्बर | 4,80,000 |
| December दिसम्बर | 5,00,000 |

29. When the person lifts material that they have previously published and passes it off as their own new work is known as :

जब कोई व्यक्ति अपनी पहले से प्रकाशित की गई सामग्री को लेता है और उसे अपने नए कार्य के रूप में प्रस्तुत करता है, तो इसे कहा जाता है :

- | | |
|--|---|
| (1) Mosaic Plagiarism मोज़ेक साहित्यिक चोरी | (2) Accidental Plagiarism आकस्मिक साहित्यिक चोरी |
| (3) Self-Plagiarism स्व-साहित्यिक चोरी | (4) Minimal Plagiarism न्यूनतम साहित्यिक चोरी |

30. Match the **Column-I** with **Column-II** and choose **correct** option :

स्तम्भ -I को स्तम्भ -II से मिलाये और **सही** विकल्प चुने :

Column-I

स्तंभ-I

- A. Explanatory research
व्याख्यात्मक अनुसंधान
- B. Descriptive research
वर्णनात्मक अनुसंधान
- C. Exploratory research
खोजपूर्ण अनुसंधान

Column-II

स्तंभ-II

- (i) Understanding causes and consequences of phenomenon
घटना के कारणों और परिणामों को समझना
- (ii) Discover new phenomenon
नई घटना की खोज
- (iii) Describing existing phenomenon
मौजूदा घटना का वर्णन

Code :

कूट :

- | | |
|----------------------------|----------------------------|
| (1) A-(ii), B-(iii), C-(i) | (2) A-(i), B-(iii), C-(ii) |
| (3) A-(ii), B-(i), C-(iii) | (4) A-(iii), B-(ii), C-(i) |

31. Which of the following is **not** an appropriate tool for data analysis ?

निम्नलिखित में से कौन-सा डाटा विश्लेषण के लिए उपयुक्त उपकरण **नहीं** है ?

- | | |
|----------------------------|--------------------------------|
| (i) SPSS एस० पी० एस० एस | (ii) MS-Excel एम०एस०-एक्सेल |
| (iii) R आर | (iv) Python पायथन |
| (v) Windows विन्डोज | |

Code :

कूट :

- | | |
|-----------------------------------|-------------------------------------|
| (1) Only (ii) केवल (ii) | (2) (ii) and (iii) (ii) और (iii) |
| (3) (ii) and (iv) (ii) और (iv) | (4) Only (v) केवल (v) |

32. In an experiment conducted on goats, the following were measured on each animal in the study : Sex, weight (in kg) and birth order. The scale of measurement of these variables are :

बकरियों पर किए गए एक प्रयोग में, अध्ययन में प्रत्येक जानवर पर निम्नलिखित को मापा गया : लिंग, वजन (किग्रा० में) और जन्म क्रम। इन चरों के मापन में प्रयुक्त मापनियाँ हैं :

- | | |
|---|---|
| (1) Nominal, Ratio, Ordinal नामित, अनुपात, क्रमिक | (2) Ordinal, Ratio, Ratio क्रमिक, अनुपात, अनुपात |
| (3) Ordinal, Ratio, Interval क्रमिक, अनुपात, अन्तराल | (4) Nominal, Nominal, Ordinal नामित, नामित, क्रमिक |

43. Which statistical measure describes the central tendency of a data set ?

कौन-सा सांख्यिकीय मापन आँकड़ों के समुच्चय की केन्द्रीय प्रवृत्ति का वर्णन करता है ?

- | | |
|--------------------------------------|------------------------|
| (1) Standard Deviation मानक विचलन | (2) Range प्रसार |
| (3) Mean माध्य | (4) Variance प्रसरण |

44. What does a p-value in statistical analysis indicate ?

सांख्यिकीय विश्लेषण में p-मान क्या इंगित करता है ?

- | | |
|---|---|
| (1) The size of the data set आँकड़ों के समुच्चय का आकार | (2) The probability of obtaining results by chance under null hypothesis शून्य परिकल्पना के अन्तर्गत नतीजों को आकस्मिक रूप से प्राप्त करने की सम्भावना |
| (3) The mean of the data set आँकड़ों के समुच्चय का माध्य | (4) The variance within the data set आँकड़ों के समुच्चय का प्रसरण |

45. What does the term 'outlier' refer to in data analysis ?

आँकड़ों के विश्लेषण में 'बहिरस्थ प्रदत्त' शब्द का क्या अर्थ है ?

- | | |
|---|--|
| (1) A data point that lies within the expected range एक आँकड़ा बिन्दु जो अपेक्षित सीमा में होता है | (2) A data point that does not fit the overall pattern of the data एक आँकड़ा बिन्दु जो आँकड़ों के समग्र पैटर्न में फिट नहीं होता है |
| (3) The average value of a data set आँकड़ा समुच्चय का औसत मान | (4) The data point that lies between the first and third quartile आँकड़ा समुच्चय में पहले और तीसरे चतुर्थक के बीच का मान |

40. A longitudinal research design is :

एक अनुदैर्घ्य अनुसंधान अभिकल्प है :

- (1) Studying multiple groups simultaneously
कई समूहों का समकालिक अध्ययन
- (2) Collecting data at a single point in time
एक ही समय पर आँकड़ों का संग्रहण
- (3) Observing participants over an extended period of time
एक विस्तारित समयावधि तक प्रतिभागियों का प्रेक्षण
- (4) Analyzing historical data
ऐतिहासिक आँकड़ों का विश्लेषण करना

41. Which research design investigates the cause and effect relationship between variables ?

कौन-सा अनुसंधान अभिकल्प चरों के बीच प्रभाव-कारण सम्बन्ध की जाँच करता है ?

- | | |
|--|--|
| (1) Descriptive design वर्णनात्मक अभिकल्प | (2) Correlational design सहसम्बन्धात्मक अभिकल्प |
| (3) Experimental design प्रयोगात्मक अभिकल्प | (4) Case-study design केस-अध्ययन अभिकल्प |

42. Which of the following is **not** a primary purpose of a literature review in research ?

निम्न में से कौन साहित्य समीक्षा का मुख्य उद्देश्य नहीं है ?

- (1) To summarize the researcher's findings
शोधकर्ताओं के नतीजों का संक्षिप्तीकरण
- (2) To provide a historical background of the topic
विषय का ऐतिहासिक पृष्ठभूमि प्रदान करना
- (3) To identify gaps and justify the need for the study
अन्तरालों की पहचान करना और अध्ययन की आवश्यकता को उचित ठहराना
- (4) To present statistical analysis of the data
आँकड़ों का सांख्यिकीय विश्लेषण प्रस्तुत करना

33. Which among the following is **not** an example of primary data ?

निम्नलिखित में से कौन-सा प्राथमिक आँकड़े का उदाहरण नहीं है ?

- (1) Data collected through surveys
सर्वेक्षण के माध्यम से एकत्रित आँकड़े
- (2) Data collected through interviews
साक्षात्कार के माध्यम से एकत्रित आँकड़े
- (3) Data collected from experiments
प्रयोगों से एकत्रित आँकड़े
- (4) Data collected from national census reports
राष्ट्रीय जनगणना प्रतिवेदन से एकत्रित आँकड़े

34. Kurtosis of a standard normal distribution is :

एक मानक प्रसामान्य वितरण की कुकुदता है :

- | | |
|-------------------|------------------|
| (1) Zero शून्य | (2) Three तीन |
| (3) Two दो | (4) One एक |

35. A subset that is chosen from population is known as :

एक उपसमुच्चय जिसे एक जनसंख्या में से चुना जाता है, कहलाता है :

- | | |
|-------------------------|-------------------------|
| (1) Parameter प्राचल | (2) Variable चर |
| (3) Sample प्रतिदर्श | (4) Statistic समदर्श |

36. A Which of the following is **not** applied in research involving qualitative variables ?

निम्नलिखित में से कौन गुणात्मक चरों को निहित करने वाले अनुसंधान में प्रयुक्त नहीं होता है ?

- | | |
|-------------------------------|---------------------|
| (1) Proportion अनुपात | (2) Diagram आरेख |
| (3) Odds ratio विषम अनुपात | (4) Mean माध्य |

37. Read the following statements and choose **true** statement(s) :

निम्नलिखित कथनों को पढ़ें और **सत्य** कथन चुनें :

- (a) Independent variables are unknown variables.
स्वतंत्र चर अज्ञात चर हैं।
- (b) Dependent variables are unknown variables.
आश्रित चर अज्ञात चर हैं।
- (c) Research decisions are made on dependent variables.
अनुसंधान निर्णय आश्रित चर पर किए जाते हैं।

Code :

कूट :

- | | |
|-------------------------------|-------------------------------|
| (1) Only (a) केवल (a) | (2) (a) and (b) (a) और (b) |
| (3) (b) and (c) (b) और (c) | (4) (a) and (c) (a) और (c) |

38. The sampling method in which after random start, every 'kth' individual is selecting from the population list is known as :

एक यादृच्छिक आरंभ के उपरांत जनसंख्या सूची के प्रत्येक 'kवाँ' व्यक्ति को चयनित करने वाली प्रतिचयन विधि है :

- (1) Simple random sampling
सामान्य यादृच्छिक प्रतिचयन
- (2) Systematic sampling
क्रमबद्ध प्रतिचयन
- (3) Stratified sampling
स्तरीकृत प्रतिचयन
- (4) Cluster sampling
गुच्छ प्रतिचयन

39. In stratified random sampling, how the strata within the population are decided ?

स्तरीकृत यादृच्छिक प्रतिचयन में जनसंख्या के स्तरों का निर्धारण कैसे किया जाता है ?

- (1) Randomly
यादृच्छिक रूप से
- (2) Based on specific characteristics of population
जनसंख्या के विशिष्ट विशेषताओं पर आधारित
- (3) Using a pre-defined pattern
पूर्व-निर्धारित पैटर्न का उपयोग करके
- (4) Using geographical proximity
भौगोलिक समीपता के आधार पर